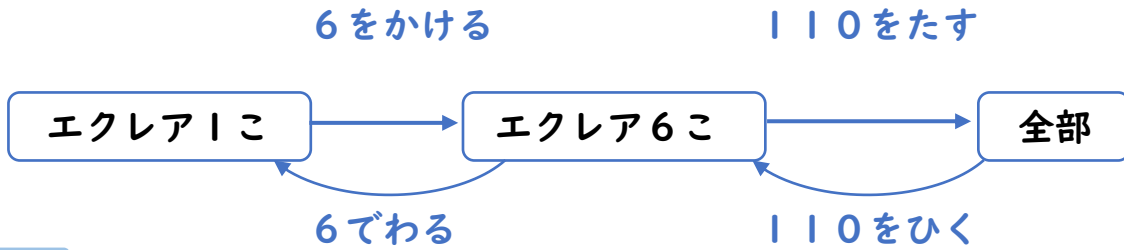


□□1

同じねだんのエクレアを6こ買い、そのあと110円のジュースを買うと、代金は合わせて950円でした。エクレア1このねだんは何円ですか。



式

答え \_\_\_\_\_

□□2

魚屋さんでさんまを買いました。8尾買って代金を支払おうとしたら、魚屋のおじさんが40円まけてくれたので、代金は1400円になりました。さんま1尾のねだんはいくらでしたか。

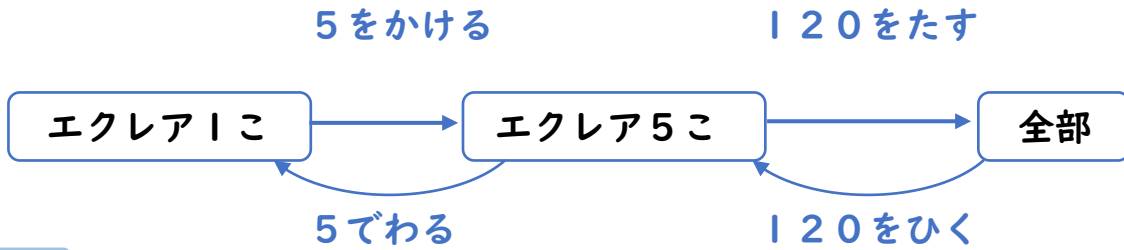
式

答え \_\_\_\_\_



□□1

同じねだんのエクレアを5こ買い、そのあと120円のジュースを買うと、代金は合わせて870円でした。エクレア1このねだんは何円ですか。



式

答え

□□2

魚屋さんでさんまを買いました。18尾買って代金を支払おうとしたら、魚屋のおじさんが120円まけてくれたので、代金は1500円になりました。さんま1尾のねだんはいくらでしたか。

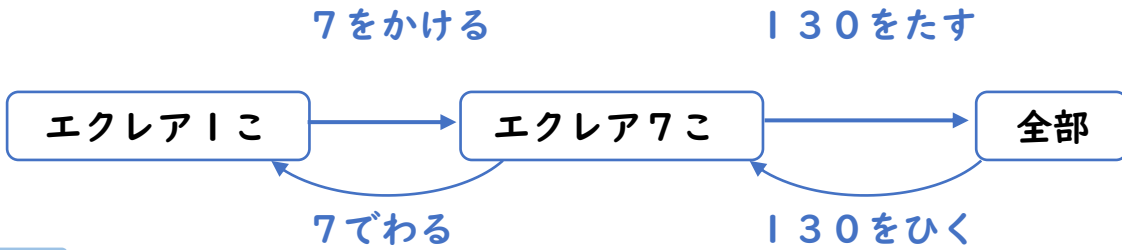
式

答え



□□1

同じねだんのエクレアを7こ買い、そのあと130円のジュースを買うと、代金は合わせて970円でした。エクレア1このねだんは何円ですか。



式

答え \_\_\_\_\_

□□2

魚屋さんでさんまを買いました。15尾買って代金を支払おうとしたら、魚屋のおじさんが50円まけてくれたので、代金は1600円になりました。さんま1尾のねだんはいくらでしたか。

式

答え \_\_\_\_\_

